

2011 BS 3204-A

1. Bir çiftçinin daha fazla gübre kullandığında arpa üretiminin ne kadar artacağına ilişkin iktisadi düşünme tarzı aşağıdakilerden hangisini kapsar?

- A) Varsayım
- B) Tümleme yanılıgısı
- C) Marjinal analiz
- D) Diğer şartlar sabit varsayımı
- E) Mantıksal değerlendirme

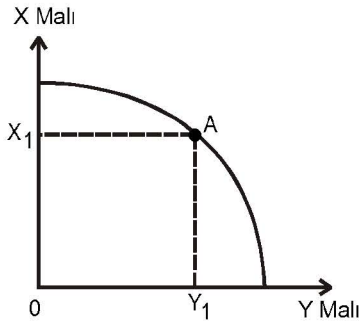
2. Aşağıdakilerden hangisi ihtiyaçların özelliklerinden biri değildir?

- A) Herkes için benzer olması
- B) Şiddet bakımından farklılık göstermesi
- C) İkame edilebilmesi
- D) Sonsuz olması
- E) Giderildikçe şiddetlerinin azalması

3. Mal ve hizmet üretiminde kullanılan, doğa ya da insanlar tarafından sağlanan tüm araçlara ne ad verilir?

- A) Beşeri sermaye
- B) Üretim faktörleri
- C) Kaynaklar
- D) Emek
- E) Sermaye

4.



Yukarıdaki şekle göre, üretim imkânları eğrisi üzerindeki A noktasına ulaşıldıktan sonra daha fazla X malı üretmenin yolu aşağıdakilerden hangisidir?

- A) Y malı üretimini azaltmak
- B) X malının fiyatını ucuzlatmak
- C) Y malı üretimini artırmak
- D) Y malı üretimine daha fazla kaynak ayırmak
- E) Y malının fiyatını artırmak

5. Piyasa işlem hacmi (denge miktarı) artarken denge fiyatı değişmeden kalıyorsa aşağıdakilerden hangisi gerçekleşmiştir?

- A) Arz ve talep aynı miktarda ancak ters yönde değişmiştir.
- B) Talep artışı arz artışından daha fazladır.
- C) Arz ve talep aynı miktarda azalmıştır.
- D) Arz ve talep aynı miktarda artmıştır.
- E) Arz artışı talep artışından daha fazladır.

6. Bir malın fiyatı 40 TL iken satılmak istenen miktarı 100 birimdir. Malın fiyatı 50 TL'ye yükseldiğinde satılmak istenen miktar 150 birime çıkıyorsa arzın fiyat esnekliğinin değeri kaçtır?

- A) 0,5
- B) 1
- C) 1,5
- D) 2
- E) 4

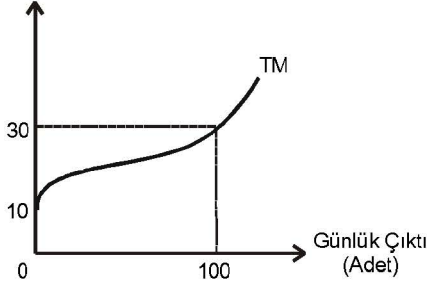
7. Devletin elektronik eşya ithalatına kota getirmesi durumunda kota uygulanan ürünün fiyatında ve talebinde ortaya çıkan değişiklik aşağıdakilerden hangisidir?

- A) Ürünün fiyatı ve talebi azalır.
- B) Ürünün fiyatı ve talebi artar.
- C) Ürünün fiyatı azalır, talebi değişmez.
- D) Ürünün fiyatı artar, talebi değişmez.
- E) Ürünün fiyatı artar, talebi azalır.

8. Tam rekabet piyasasında faaliyet gösteren bir firmanın kısa dönemde üretimde bulunabilmesi için gerekli koşul aşağıdakilerden hangisidir?

- A) Toplam gelir  $\geq$  Toplam değişken maliyet
- B) Toplam gelir  $<$  Toplam değişken maliyet
- C) Toplam gelir  $>$  Marjinal maliyet
- D) Toplam gelir = Toplam maliyet
- E) Toplam gelir  $<$  Toplam sabit maliyet

2011 BS 3204-A

9. Toplam Maliyet  
(Milyar TL)

Yukarıdaki şekilde bir firmaya ait toplam maliyet eğrisi (TM) yer almaktadır. Buna göre, 100 birim mal üretildiğinde firmanın katlanacağı değişken maliyet kaç milyar TL'dir?

- A) 10
- B) 20
- C) 30
- D) 40
- E) 100

10. Tam rekabet piyasasında fiyat her zaman aşağıdakilerden hangisine eşit olmak durumundadır?

- A) Maksimum kâra
- B) Toplam kâra
- C) Toplam maliyete
- D) Toplam gelire
- E) Ortalama gelire

11. Tekelci bir firma piyasa arzını tek başına kontrol etmesine karşın, fiyatlama ve üretim kararı verirken aşağıdakilerden hangisini göz önüne almak zorundadır?

- A) Yakın ikame mallarının fiyatlarını
- B) Piyasa talebini
- C) Arzın fiyat esnekliğini
- D) Sermaye miktarını
- E) Rakiplerin fiyatlarını

12. Aşağıdakilerden hangisi tekelin fiyat farklılaştırmasına gidilebilmesi için gerekli olan temel koşullardan biridir?

- A) Satıcının farklı talep esnekliklerine sahip tüketicileri belirleyebilir olması
- B) Marjinal gelirin belirlenebilir olması
- C) Toplam maliyetlerin düşük olması
- D) Alıcıların piyasa hakkında tam bilgiye sahip olması
- E) Piyasada çok sayıda satıcı, az sayıda alıcı olması

13. Aşağıdakilerden hangisi faktör talebini etkileyen unsurlardan biri değildir?

- A) Üretim faktörünün fiyatı
- B) Bireyin boş zaman tercihi
- C) Diğer üretim faktörlerinin fiyatı
- D) Faktör verimliliği
- E) Talep edilen mal miktarı

14. Özel tüketim veya üretim faaliyetlerinin tüketici veya üretici tarafından ödenmeyen maliyetlerine ne ad verilir?

- A) Marjinal dışsallık
- B) Sosyal dışsallık
- C) Pozitif dışsallık
- D) Türev dışsallık
- E) Negatif dışsallık

15. Aşağıdakilerden hangisi devletin yaptığı transfer ödemesi niteliğindedir?

- A) Tüketim malı harcamaları
- B) Mal ve hizmet alım bedeli
- C) İç borç faiz ödemesi
- D) Ücret ödemeleri
- E) Alt yapı yatırım harcamaları

16. SMH'nın hesaplanmasında aşağıdakilerden hangisi kullanılır?

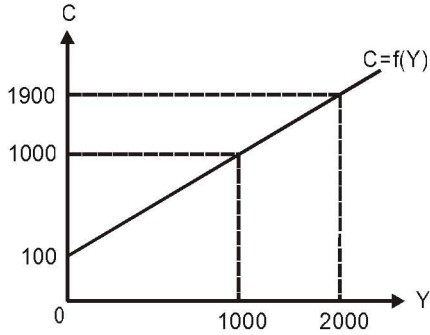
- A)  $SMH = GSMH - \text{Dolaylı vergiler}$
- B)  $SMH = GSMH - \text{Amortismanlar}$
- C)  $SMH = GSMH + \text{Amortismanlar}$
- D)  $SMH = GSMH + \text{Dolaylı vergiler}$
- E)  $SMH = GSMH - \text{Amortismanlar} + \text{Dolaylı vergiler}$

2011 BS 3204-A

17. Hesaplama yapılan dönemde piyasada geçerli olan fiyatların kullanılması ile hesaplanan gayrisafi milli hasıla değeri aşağıdakilerden hangisidir?

- A) Potansiyel gayrisafi milli hasıla
- B) Gayrisafi milli hasıla açığı
- C) Efektif gayrisafi milli hasıla
- D) Nominal gayrisafi milli hasıla
- E) Reel gayrisafi milli hasıla

18 - 20. sorular aşağıdaki şekle göre cevaplandırılacaktır.



18. Yukarıdaki tüketim fonksiyonu için hesaplanacak marjinal tüketim eğiliminin değeri kaçtır?

- A) 0,10
- B) 0,75
- C) 0,80
- D) 0,85
- E) 0,90

19. Yukarıdaki tüketim fonksiyonuna göre, gelir 1500 olduğunda gerçekleşecek tüketim harcaması miktarı kaçtır?

- A) 1 000
- B) 1 300
- C) 1 450
- D) 1 550
- E) 1 700

20. Yukarıdaki tüketim fonksiyonuna göre, gelir 0 olduğunda gerçekleşecek tasarruf miktarı kaçtır?

- A) -100
- B) 0
- C) 100
- D) 150
- E) 200

21. Aşağıdakilerden hangisi yatırım fonksiyonunda yukarıya doğru kaymaya neden olur?

- A) Sermaye malları maliyetinde artış
- B) Yatırım vergilerindeki artış
- C) Kapasite kullanım oranındaki düşüş
- D) Faiz oranlarında düşüş
- E) İş alemi beklentilerinin kötümser hale gelmesi

22. Çarpan değerinin 3 olarak hesaplandığı bir ekonomide, otonom harcamalarda meydana gelen 30 TL'lik bir artışın gelirden yaratacağı artış miktarı kaç TL olur?

- A) 10
- B) 27
- C) 30
- D) 33
- E) 90

23. Harcama çarpanının 4 olarak hesaplandığı bir ekonomide, marjinal ithal eğiliminin değeri 0,10 ise, marjinal tüketim eğilimi aşağıdakilerden hangisidir?

- A) 0,85
- B) 0,80
- C) 0,75
- D) 0,70
- E) 0,65

24. Vergi değişikliklerinin toplam harcama doğrusunun paralel olarak yer değiştirilmesine yol açmasının nedeni aşağıdakilerden hangisidir?

- A) Vergilerin kamu harcamalarına bağlı olarak değişmesi
- B) Vergi değişikliklerinin herkesi aynı oranda etkilemesi
- C) Vergi oranlarının doğrudan devlet tarafından belirlenmesi
- D) Vergilerin sadece gelir üzerinden alınması
- E) Vergilerin otonom olarak kabul edilmesi

2011 BS 3204-A

25. Zorunlu rezerv oranının 0,20 olduğu bir ortamda, bankacılık sisteminin rezervlerinde meydana gelecek 1 milyon liralık artışın, mevduat hacminde yaratacağı artış kaç milyon liradır?

- A) 1
- B) 3
- C) 5
- D) 8
- E) 10

26. Aşağıdakilerden hangisi modern bir merkez bankasının üstlendiği fonksiyonlardan biri değildir?

- A) Bankalara bankacılık hizmeti sunmak
- B) Üretimin kalitesinde iyileştirme sağlamak
- C) Devlete bankacılık hizmetleri sunmak
- D) Ülkede likiditenin son kaynağı olmak
- E) Para piyasalarında istikrarı sağlamak

27. Ekonomik birimlerin mal ve hizmetlere harcamak amacıyla ellerinde bulundurmaları istedikleri para miktarına ne ad verilir?

- A) İhtiyat amaçlı para talebi
- B) İşlem amaçlı para talebi
- C) Arbitraj amaçlı para talebi
- D) Spekülatif amaçlı para talebi
- E) Envanter amaçlı para talebi

28. Genişlemeci bir maliye politikasının fiyatlar üzerinde yaratacağı nihai etki aşağıdakilerden hangisinde doğru olarak belirtilmektedir?

- A) Toplam talep eğrisi sola kayar, fiyatlar artar.
- B) Toplam arz ve toplam talep eğrileri sağa kayar, fiyatlar değişmez.
- C) Toplam arz eğrisi sola kayar, fiyatlar artar.
- D) Toplam talep eğrisi sağa kayar, fiyatlar artar.
- E) Toplam arz eğrisi sağa kayar, fiyatlar artar.

29. Bir ülkenin aynı malda hem ithalatçı, hem de ihracatçı statüsünde olması aşağıdakilerden hangisinin göstergesi olarak kabul edilmektedir?

- A) Dışa kapalı ekonomik yapı
- B) Globalleşme
- C) Sınırlı uzmanlaşma
- D) Serbest ticaret
- E) Korumacılık

30. Ekonomik büyüme oranının hesaplanmasında aşağıdaki GSMH kavramlarından hangisi kullanılır?

- A) Nominal GSMH
- B) Potansiyel GSMH
- C) GSMH açığı
- D) Reel GSMH
- E) Konjonktürel GSMH