

2010 YS 2100-A

- I. Gerçekleri toplama  
II. Teori oluşturma ve test etme  
III. İktisat politikaları oluşturma

Yukarıdakilerden hangileri iktisatçılar tarafından kullanılan araştırma yöntemini açıklar?

- Yalnız I
- Yalnız III
- I ve II
- I ve III
- I, II ve III

- Mal ve hizmet üretiminde kullanılan, doğa ya da insanlar tarafından sağlanan tüm araçlara ne ad verilir?

- Sermaye
- Emek
- Üretim faktörleri
- Beşeri sermaye
- Kaynaklar

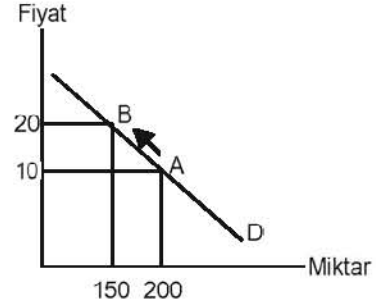
- Çeşitli fiyat düzeylerinde herhangi bir X malının arz edilen miktarı 80 birim, talep edilen miktarı 190 birim ise X malı piyasasında aşağıdaki durumlardan hangisi söz konusudur?

- Piyasa temizlenmesi
- Piyasa dengesi
- Kıtlık
- Artık
- Denge fiyatı

- Arz edilen mal veya hizmet miktarını sınırlayarak, rekabet koşullarında oluşmuş piyasa fiyatını üreticilerin lehine arttırmaya dönük devlet politikasına ne ad verilir?

- Tavan fiyatı
- Üretim kotası
- Taban fiyatı
- Fiyat kontrolü
- İthalat kotaları

5.



Yukarıdaki talep eğrisi üzerinde A noktasından B noktasına gelinmesi durumunda, talebin fiyat esnekliği katsayısı kaçtır?

- 0,30
- 0,25
- 0,125
- 0,33
- 0,5

- Bir firmada istihdam edilen işçi sayısı 15 ten 20 ye çıkarıldığında, üretim miktarı yılda 100 birimden 200 birime çıkıyorsa emeğin marjinal fiziki ürün değeri kaçtır?

- 5
- 10
- 15
- 20
- 25

- Aşağıdakilerden hangisi tam rekabet piyasasının özel bir piyasa yapısına neden olan varsayımlarından biri değildir?

- Alıcı ve satıcıların tam bilgiye sahip olması
- Piyasada çok sayıda alıcı ve satıcı olması
- Firmaların kolaylıkla piyasalara girip çıkması
- Her firmanın homojen bir ürün üretip satması
- Piyasada yakın ikamesi olmayan malların satılması

- Oligopol piyasasında faaliyette bulunan firmaların ürünlerinin homojen olduğu oligopol aşağıdakilerden hangisidir?

- Kısmi oligopol
- Tam oligopol
- Kartel
- Farklılaştırılmış oligopol
- Saf oligopol

2010 YS 2100-A

9. Üretim faktörlerinin alınıp satıldığı piyasalara ne ad verilir?

- A) Türev piyasalar
- B) Ekonomik piyasalar
- C) Birincil piyasalar
- D) Faktör piyasaları
- E) İkincil piyasalar

10. Kamusal bir maldan fayda sağlayan her bireyin marjinal faydalarının toplamına ne ad verilir?

- A) Marjinal sosyal maliyet
- B) Dışsallık
- C) Marjinal özel fayda
- D) Marjinal sosyal fayda
- E) Yansıma

11. Üretim hacminde zaman zaman ortaya çıkan daralmaların yarattığı işsizlik türüne ne ad verilir?

- A) Arıza işsizlik
- B) Friksiyonel işsizlik
- C) Konjonktürel işsizlik
- D) Yapısal işsizlik
- E) Mevsimlik işsizlik

12.

Üretim Aşaması	Satışların Değeri
Buğday	100
Un	130
Ekmek	200

her aşamasında gerçekleştirilen üretim değerleri yer almaktadır.

Buna göre üretimin her aşamasında yaratılan katma değer aşağıdakilerden hangisinde doğru olarak verilmiştir?

	Buğday	Un	Ekmek
B)	30	70	200
C)	100	130	200
D)	100	230	430
E)	100	30	70

13. Konjonktür dalgalanmalarının uzun dönemdeki seyri göz önüne alındığında, her daralma döneminden sonra ekonominin canlanmaya geçişi aşağıdakilerden hangisi ile adlandırılır?

- A)  $\cap$  dönüşü
- B)  $\supset$  dönüşü
- C)  $\cup$  dönüşü
- D)  $\subset$  dönüşü
- E) W seyri

14. Aşağıdakilerden hangisi gelir-harcama akımından bir sızıntı niteliği taşımaktadır?

- A) Tasarruflar
- B) Yatırımlar
- C) Tüketim harcamaları
- D) İhracat
- E) Kamu harcamaları

15. Bir başka mal veya hizmetin üretilmesinde kullanılan mal ve hizmetlere ne ad verilir?

- A) Tüketim malı
- B) Sermaye malı
- C) Tamamlanmış mal
- D) Ara malı
- E) Nihai mal

16. Vergi çarpanının negatif işarete sahip olması aşağıdakilerden hangisini ifade eder?

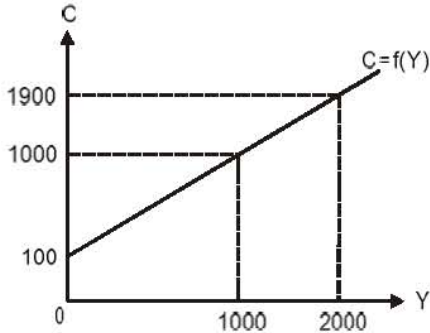
- A) Kamu harcaması değişikliklerinin vergilere ters yönde yansiyacağını
- B) Vergi değişikliklerinin gelire ters yönde yansiyacağını
- C) Vergi değişikliklerinin kamu harcamalarına ters yönde yansiyacağını
- D) Kamu harcaması değişikliklerinin gelire ters yönde yansiyacağını
- E) Vergi değişikliklerinin bütçe dengesine ters yönde yansiyacağını

2010 YS 2100-A

17. MPS marjinal tasarruf eğilimi, MPC marjinal tüketim eğilimi ve MPI marjinal ithal eğilimini ifade ettiğine göre, aşağıdakilerden hangisi denk bütçe çarpanını göstermektedir?

- A)  $MPS + MPI$   
 B)  $MPC - MPS$   
 C)  $MPS + MPC$   
 D)  $1 - MPC$   
 E)  $\frac{1 - MPS + MPI}{1 + MPS - MPI}$

18 - 20. sorular aşağıdaki şekle göre cevaplandırılacaktır.



18. Yukarıdaki tüketim fonksiyonu için hesaplanacak marjinal tüketim eğiliminin değeri kaçtır?

- A) 0,10  
 B) 0,75  
 C) 0,80  
 D) 0,85  
 E) 0,90

19. Yukarıdaki tüketim fonksiyonuna göre, gelir 1500 olduğunda gerçekleşecek tüketim harcaması miktarı kaçtır?

- A) 1000  
 B) 1300  
 C) 1450  
 D) 1550  
 E) 1700

20. Yukarıdaki tüketim fonksiyonuna göre, gelir 0 olduğunda gerçekleşecek tasarruf miktarı kaçtır?

- A) -100  
 B) 0  
 C) 100  
 D) 150  
 E) 200

21. Varlıkların nakde veya vadesiz mevduata dönüşüm hızı ve kolaylığına ne ad verilir?

- A) Dolaşım hızı  
 B) Likidite  
 C) Benzeşim oranı  
 D) Tedavül özelliği  
 E) Konvertibilite

22. Zorunlu rezerv oranının 0.20 olduğu bir ortamda basit kaydi para çarpanının değeri kaçtır?

- A) 1  
 B) 3  
 C) 5  
 D) 8  
 E) 10

23. Paranın dolaylı yoldan ekonomiyi etkileyeceğini savunanlara göre, para miktarındaki değişiklikler aşağıdakilerden hangisi aracılığı ile ekonomiyi etkilemektedir?

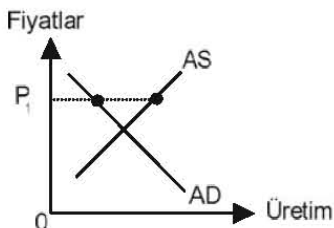
- A) Marjinal tüketim eğilimi  
 B) Dolaşım hızı  
 C) Harcama çarpanı  
 D) Faiz oranı  
 E) Ortalama tasarruf eğilimi

24. Paranın işlem amacıyla talep edilmesinin nedeni aşağıdakilerden hangisidir?

- A) Harcamaların genellikle gelirden büyük olması  
 B) Tasarruf yapma güdüsünün olması  
 C) Faiz oranının sabit olmaması  
 D) Gelir elde etme ve harcama yapma dönemlerinin eşleşmemesi  
 E) Marjinal tüketim eğiliminin 1'den küçük olması

2010 YS 2100-A

25.



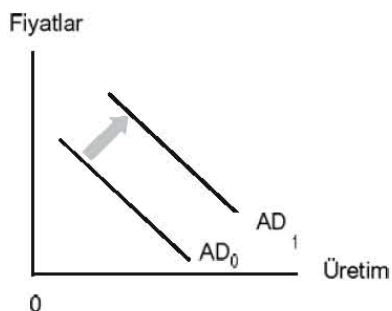
Yukarıdaki grafikte yer alan  $P_1$  fiyat düzeyi için aşağıdakilerden hangisi doğrudur?

- A)  $AS > AD$  olduğundan AS sağa kayar.
- B)  $AS > AD$  olduğundan AS sola kayar.
- C)  $AS > AD$  olduğundan fiyatlar düşer.
- D)  $AS > AD$  olduğundan AD sağa kayar.
- E)  $AS > AD$  olduğundan AD sola kayar.

26. Günümüzde, tarifelerin temel amacı aşağıdakilerden hangisidir?

- A) Yerli firmaları uluslararası rekabetten korumak
- B) Yurtdışına gelir transferine engel olmak
- C) Yerli paranın değer kaybetmesine engel olmak
- D) Devlete gelir sağlamak
- E) Ülkede yerli mal bilincini oluşturmak

27.



Yukarıdaki şekle göre,  $AD_0$  toplam talebi aşağıdakilerden hangisidir?

- A) Vergilerdeki azalma
- B) Kamu harcamalarında azalma
- C) Para arzında azalma
- D) Otonom tüketim harcamalarında azalma
- E) Otonom yatırımlarda azalma

28. Türkiye 1 birim kaynakla 2 adet saat veya 1000 kg fındık üretirken, İsviçre aynı kaynakla 4 adet saat veya 500 kg fındık üretiyorsa, Türkiye'nin fındık, İsviçre'nin saat üretiminde uzmanlaşması durumunda dünya fındık ve saat üretimi bundan nasıl etkilenir?

- A) Saat üretimi 2 adet artar, fındık üretimi 500 kg azalır.
- B) Saat üretimi 2 adet, fındık üretimi 500 kg artar.
- C) Saat ve fındık üretimi değişmez.
- D) Saat üretimi 2 adet azalır, fındık üretimi 500 kg artar.
- E) Saat üretimi 2 adet, fındık üretimi 500 kg azalır.

29. Aşağıdakilerden hangisi gelişmekte olan ülkelerde kalkınmanın önündeki politik engellerden biri değildir?

- A) Kamu yönetimindeki yetersizlik
- B) Girişimci ruhunun eksikliği
- C) Siyasi istikrarsızlık
- D) İktisat politikası değişikliklerine direnme
- E) Politik risk

30. İçeride dönük kalkınma stratejilerinin genel amacı aşağıdakilerden hangisidir?

- A) İhracatı teşvik etmek
- B) İthalatı ikame etmek
- C) Sanayileşmeyi ithalatı teşvik edecek şekilde desteklemek
- D) İhraç ürünleri üreten sektörleri teşvik etmek
- E) Döviz kuru ile ithalatı teşvik etmek