

İKTİSADA GİRİŞ

A

2009 AS 3204-A

1. Belirli ekonomik sorunların çözümüne veya bu sorunların ortaya çıkmasını önlemeye dönük politikaların oluşturulma sürecine ne ad verilir?

- A) Ekonomik analiz
- B) İktisat politikası
- C) Betimleyici iktisat
- D) İktisadi planlama
- E) Rasyonel iktisat

2. İktisadın, mevcut durumunu inceleyerek insan davranışı ve insanların piyasa, endüstri, firma ve birey gibi nispeten küçük birimlerle ilişkili tercihlerini inceleyen bölümü aşağıdakilerden hangisidir?

- A) Pozitif iktisat
- B) Makro iktisat
- C) Mikro iktisat
- D) Normatif iktisat
- E) İktisadi düşünce

3. Aşağıdakilerden hangisi ihtiyaçların özelliklerinden biri değildir?

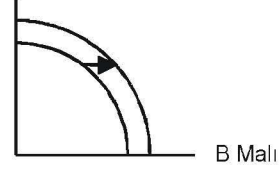
- A) İhtiyaçların, şiddet bakımından farklılık göstermesi
- B) Bazı ihtiyaçların, tatmin edildikçe şiddetlerinin artması
- C) İnsan ihtiyaçlarının sınırlı olması
- D) Tatmin edildikçe ihtiyacın şiddetinin azalması
- E) İhtiyaçlar veya ihtiyaçları tatmine yarayan araçların ikame edilebilmesi

4. Tercih yapmak veya karar almak durumunda olan bir iktisadi birimin kendi hedefine uygun biçimde hareket etmesine ne ad verilir?

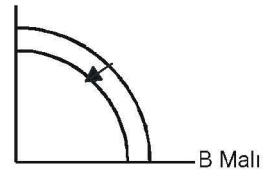
- A) Rasyonel davranış
- B) Pozitif iktisat
- C) Karar alma
- D) Çıkarılma
- E) Tümevarım

5. Aşağıdakilerden hangisi ekonomik büyümenin gerçekleştiğini göstermektedir?

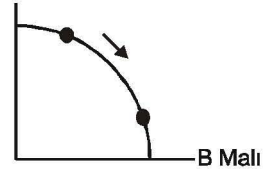
A) A Mali



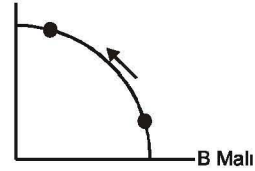
B) A Mali



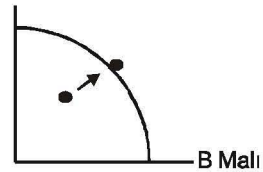
C) A Mali



D) A Mali



E) A Mali



A

2009 AS 3204-A

6. Tüketicinin belli şartlarda en yüksek fayda düzeyini sağladığı duruma ne ad verilir?

- A) Marjinal fayda eşitliği
- B) Toplam fayda
- C) Kâr maksimizasyonu
- D) Marjinal fayda
- E) Tüketici dengesi

7. Toplam fayda ve marjinal fayda ile ilgili olarak aşağıdaki ifadelerden hangisi yanlıştır?

- A) Toplam faydanın maksimum olduğu noktada marjinal fayda sıfırdır.
- B) Marjinal fayda eğrisi azalan bir eğridir.
- C) Toplam fayda eğrisi azalan bir eğridir.
- D) Toplam fayda fonksiyonunun eğimi herhangi bir malın marjinal faydasını verir.
- E) Marjinal fayda, ilave tüketilen birimin sağladığı faydadır.

8. Mal ve hizmet üretiminde kullanılan, doğa ya da insanlar tarafından sağlanan tüm araçlara ne ad verilir?

- A) Üretim faktörleri
- B) Emek
- C) Beşeri sermaye
- D) Kaynaklar
- E) Sermaye

9. Tereyağı ve margarinin birbirine göre ikame mal olduğu varsayımına göre, tereyağı fiyatlarında bir artışın yaratacağı etki aşağıdakilerden hangisidir?

- A) Margarin talebi artar.
- B) Margarin talebi azalır.
- C) Tereyağı talebi azalır, margarin talebi değişmez.
- D) Tereyağı talebi artar.
- E) Margarin talebi değişmez, tereyağı talebi artar.

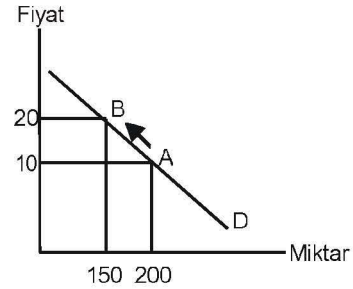
10. Aşağıdakilerden hangisi arz eğrisinin bir bütün olarak sola kaymasına neden olur?

- A) Üretim maliyetlerinde bir azalma
- B) Endüstrideki firma sayısındaki bir artış
- C) Üretim tekniklerinde gelişme
- D) Ücretlerde meydana gelecek bir artış
- E) Üretime uygulanan sübvansiyonların artması

11. Çeşitli fiyat düzeylerinde herhangi bir X malının arz edilen miktarı 80 birim, talep edilen miktarı 190 birim ise X malı piyasasında aşağıdaki durumlardan hangisi söz konusudur?

- A) Piyasa dengesi
- B) Artık
- C) Denge fiyatı
- D) Kıtık
- E) Piyasa temizlenmesi

12.



Yukarıdaki talep eğrisi üzerinde A noktasından B noktasına gelmesi durumunda, talebin fiyat esnekliği katsayısı ne olur?

- A) -0.25
- B) 0.5
- C) 0.33
- D) 0.125
- E) -0.30

13. Talep eğrisi üzerindeki iki nokta arası için hesaplanan ortalama esneklik değeri aşağıdakilerden hangisidir?

- A) Nokta esnekliği
- B) Fiyat esnekliği
- C) Gelir esnekliği
- D) Yay esnekliği
- E) Eğri esnekliği

2009 AS 3204-A

14. Aşağıdaki ürünlerden hangisinde talep inelastiktir?

- A) Tavuk eti
- B) Margarin
- C) Fındık yağı
- D) Tuz
- E) Deterjan

15. Aşağıdakilerden hangisi devletin uyguladığı belli başlı fiyat kontrollerinden biri değildir?

- A) Taban fiyat uygulaması
- B) Kota uygulaması
- C) Tavan fiyat uygulaması
- D) Aşgari ücret uygulaması
- E) Kira kontrolleri

16. Belli bir maddi ölçüt üzerinden alınan vergiler aşağıdakilerden hangisidir?

- A) Advalorem vergiler
- B) Kişisel gelir vergisi
- C) Yansıyan vergiler
- D) Spesifik vergiler
- E) Kurumlar vergisi

17. Bir malın alıcılar açısından toplam değeri ile bu malları üreten üreticilerin toplam maliyetleri arasındaki farka ne ad verilir?

- A) Kâr
- B) Tüketici rantı
- C) Üretici rantı
- D) Artık
- E) Toplam rant

18. Arz edilen mal veya hizmet miktarını sınırlayarak, rekabet koşullarında oluşmuş piyasa fiyatını üreticilerin lehine artırmaya dönük devlet politikasına ne ad verilir?

- A) İthalat kotaları
- B) Fiyat kontrolü
- C) Üretim kotası
- D) Taban fiyatı
- E) Tavan Fiyatı

19. Bir üretim faktörü için optimal girdi kullanım düzeyi ne olmalıdır?

- A) Girdinin ortalama fiziki ürün değerinin girdi maliyetinden küçük olması gerekir.
- B) Girdinin ortalama fiziki ürün değerinin girdi maliyetinden büyük olması gerekir.
- C) Girdinin marjinal fiziki ürün değeri girdi fiyatından büyük olmalıdır.
- D) Girdinin marjinal fiziki ürün değeri girdi fiyatından küçük olmalıdır.
- E) Girdinin marjinal fiziki ürün değeri girdi fiyatına eşit olmalıdır.

20. Emek miktarındaki bir birimlik değişimin toplam ürün miktarında meydana getirdiği değişme aşağıdakilerden hangisidir?

- A) Toplam fiziki ürün
- B) Marjinal fiziki ürün
- C) Marjinal ürün değeri
- D) Ortalama fiziki ürün
- E) Ürün

21. Şekerleme üretimi yapan bir fabrikanın %10 oranında yeni makine ve teçhizat alması %10 oranında üretim artışına yol açıyorsa, bu üretim sürecinde aşağıdakilerden hangisi geçerli olur?

- A) Ölçeğe göre artan verim
- B) Ölçeğe göre marjinal verim
- C) Ölçeğe göre sabit verim
- D) Ölçeğe göre azalan verim
- E) Ölçeğe göre örtük verim

22. Üretim faktörlerinin (emek sermaye toprak) üretim sürecine katılmasıyla elde edilen çıktıya ne ad verilir?

- A) Girdi
- B) Ürün
- C) Üretim
- D) Üretim fonksiyonu
- E) İmalat

2009 AS 3204-A

23. Tam rekabet piyasasında faaliyet gösteren bir firmanın kısa dönemde üretimde bulunması için gerekli koşul aşağıdakilerden hangisidir?
- A) Ortalama gelir \geq Ortalama değişken maliyet
 B) Ortalama gelir = Toplam sabit maliyet
 C) Ortalama gelir < Ortalama maliyet
 D) Ortalama gelir = Ortalama maliyet
 E) Ortalama gelir < Ortalama değişken maliyet
24. Hiçbir firmanın sattığı ürünün fiyatı üzerinde tek başına kontrol gücünün olmadığı piyasa aşağıdakilerden hangisidir?
- A) Tekelci rekabet
 B) Tekel
 C) Tam rekabet
 D) Oligopol
 E) Düopol
25. Tam rekabetçi bir firmanın piyasada karşılaşacağı talep eğrisinin esnekliği ile ilgili olarak aşağıdakilerden hangisi geçerlidir?
- A) İnelastiktir
 B) Birim esnektir
 C) Esnektir
 D) Tam inelastiktir
 E) Tam esnektir
26. Tekelci bir firmanın kâr maksimizasyonu sağladığı üretim düzeyinde aşağıdakilerden hangisi geçerli olur?
- A) Marjinal maliyet = Ortalama toplam maliyet
 B) Marjinal maliyet = Marjinal gelir
 C) Marjinal maliyet = Ortalama gelir
 D) Ortalama gelir = Ortalama toplam maliyet
 E) Marjinal gelir = Ortalama toplam maliyet

27. Tekelci bir firmanın uzun dönemde piyasaya başka firmaların girmesini engelleyebilmesi ve tekel konumunu devam ettirebilmesi için aşağıdakilerden hangisi gerekir?
- A) Tekelci firmanın tamamlayıcı nitelikteki malları satması
 B) Piyasada alıcı sayısının çok fazla olması
 C) Devlet tarafından verilen imtiyazların olmaması
 D) Tekelci firmanın homojen mal satması
 E) Tekelci firmanın yakın ikamesi olmayan bir malı satması
28. Bir endüstrideki ölçek ekonomilerinin sadece tek bir firmanın faaliyetlerini sürdürmesine olanak sağlayacak nitelikte olması halinde ortaya çıkan tekel aşağıdakilerden hangisidir?
- A) Farklılaştırılmış tekel
 B) Pür tekel
 C) Kısmi tekel
 D) Doğal tekel
 E) Yasal tekel
29. Ödünç verilebilir fonlar piyasası dengede iken veri bir ödünç verilebilir fon talebi eğrisi durumunda, ödünç verilebilir fon arzı eğrisi sağa kayarsa denge faiz oranı ve ödünç verilebilir fon miktarı ne şekilde değişir?
- A) Faiz oranı yükselir, ödünç verilebilir fon miktarı azalır.
 B) Faiz oranı yükselir, ödünç verilebilir fon miktarı artar.
 C) Faiz oranı düşer, ödünç verilebilir fon miktarı azalır.
 D) Faiz oranı düşer, ödünç verilebilir fon miktarı değişmez.
 E) Faiz oranı düşer, ödünç verilebilir fon miktarı artar.
30. Faktör fiyatı değiştiğinde, talep edilen faktör miktarının değişme oranını aşağıdakilerden hangisi gösterir?
- A) Geriye dönük talep esnekliği
 B) Türev talep esnekliği
 C) Faktör talep esnekliği
 D) Dirsekli talep esnekliği
 E) Marjinal ürün esnekliği

2009 AS 3204-A

31. Ek üretim faktörleri kullanılması sonucu firmanın toplam gelirinde ortaya çıkan artışa ne ad verilir?

- A) Marjinal faktör verimliliği
- B) Marjinal maliyet
- C) Marjinal ürün değeri
- D) Marjinal gelir
- E) Marjinal ürün geliri

32. Bir fabrikada istihdam edilen işçi sayısı 100'den 200'e çıkartıldığında aylık toplam gelir 100000 YTL'den 150000 YTL'ye çıkıyorsa, işgücünün marjinal ürün geliri kaç YTL olur?

- A) 500
- B) 300
- C) 200
- D) 125
- E) 100

33. Kamusal mallarda, ödeme yapmayanları dışarıda bırakamama özelliği nedeniyle aşağıdakilerden hangisi ortaya çıkar?

- A) Toplumsal fayda sorunu
- B) Bedavacılık sorunu
- C) Dışsal fayda sorunu
- D) Marjinal sosyal fayda sorunu
- E) Pozitif dışsal fayda sorunu

34. Aşağıdakilerden hangisi bedavacılık sorununun artmasına neden olur?

- A) Gönüllü işbirliği içerisinde üretim maliyetine katılımın artması
- B) Kamusal maldan yararlananların sayısının artması
- C) Kamusal malın faydasının bölünebilmesi
- D) Kamusal maldan sınırlı bir grubun yararlanabilmesi
- E) Kamusal malın maliyetinin hesaplanamaması

35. Bir ekonomik birimin kendisine aldığı bir cep telefonunu ekonomide üretilen mallar içerisinde hangi kategoride değerlendirilebilir?

- A) Özel mallar
- B) Kamusal mallar
- C) Dışsal fayda sağlayan özel mallar
- D) Düşük mallar
- E) Marjinal mallar

36. Hepatit B aşısı olan bir kişinin hem kendisini bu hastalıktan koruması hem de başkalarına bu hastalığın bulaşmasını önlemesi şeklinde kendisine ve üçüncü şahıslara sağladığı fayda aşağıdakilerden hangisi ile nitelendirilebilir?

- A) Özel fayda
- B) Dışsal fayda
- C) Dolaylı fayda
- D) Kamusal fayda
- E) Sosyal fayda