

2010 BS 2100-A

1. İktisadın, mevcut durumunu inceleyerek insan davranışı ve insanların piyasa, endüstri, firma ve birey gibi nispeten küçük birimlerle ilişkili tercihlerini inceleyen bölümü aşağıdakilerden hangisidir?

- A) İktisadi düşünce
- B) Mikro iktisat
- C) Makro iktisat
- D) Pozitif iktisat
- E) Normatif iktisat

2. Aşağıdakilerden hangisi ihtiyaçların özelliklerinden biri değildir?

- A) İnsan ihtiyaçlarının sınırlı olması
- B) Tatmin edildikçe ihtiyacın şiddetinin azalması
- C) İhtiyaçların, şiddet bakımından farklılık göstermesi
- D) Bazı ihtiyaçların, tatmin edildikçe şiddetlerinin artması
- E) İhtiyaçlar veya ihtiyaçları tatmine yarayan araçların ikame edilebilmesi

3. Tercih yapmak veya karar almak durumunda olan bir iktisadi birimin kendi hedefine uygun biçimde hareket etmesine ne ad verilir?

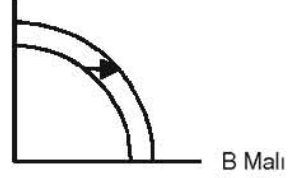
- A) Karar alma
- B) Pozitif iktisat
- C) Tümevarım
- D) Rasyonel davranış
- E) Çıkarısama

4. Aşağıdakilerden hangisi doğrudan üretim faktörü (sermaye) değildir?

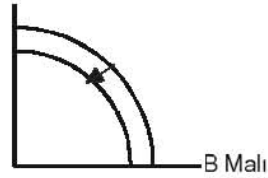
- A) Makine
- B) Para
- C) Fabrika binası
- D) İmalathane
- E) Araç

5. Aşağıdakilerden hangisi ekonomik büyümenin gerçekleştiğini göstermektedir?

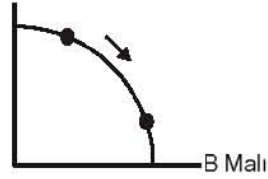
A) A Malı



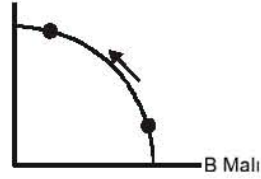
B) A Malı



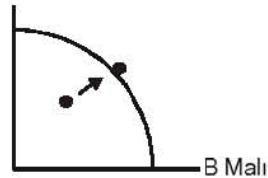
C) A Malı



D) A Malı



E) A Malı



2010 BS 2100-A

6. Tereyağı ve margarinin birbirine göre ikame mal olduğu varsayımına göre, tereyağı fiyatlarında bir artışın yaratacağı etki aşağıdakilerden hangisidir?

- A) Tereyağı talebi azalır, margarin talebi değişmez.
- B) Margarin talebi azalır.
- C) Tereyağı talebi artar.
- D) Margarin talebi artar.
- E) Margarin talebi değişmez, tereyağı talebi artar.

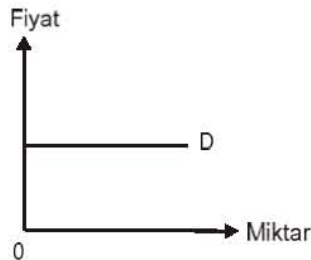
7. Aşağıdakilerden hangisi bir X malı için çizilen arz eğrisi boyunca harekete neden olur?

- A) Üreticilerin beklentilerindeki değişme
- B) Diğer malların fiyatlarındaki değişme
- C) Üretim tekniklerindeki değişme
- D) X malının fiyatındaki bir değişme
- E) Girdi fiyatlarındaki değişme

8. Negatif eğimli doğrusal talep orta noktasında esneklik katsayısının mutlak değeri aşağıdakilerden hangisine eşittir?

- A) $E^d = 1$
 $E^d = \infty$
- C) $E^d = 0$
- D) $E^d < 1$
- E) $E^d > 1$

9.



Verilen grafikte esneklik katsayısının değerlendirilmesi aşağıdakilerden hangisidir?

- A) Nokta talep esnekliği
- B) Tam esnek talep
- C) Ark esnekliği
- D) Tam inelastik talep
- F) Birim esnek talep

10. Devletin elektronik eşya ithalatına kota getirmesi durumunda kota uygulanan ürünün fiyatında ve talebinde ortaya çıkan değişiklik aşağıdakilerden hangisidir?

- A) Ürünün fiyatı azalır, talebi değişmez.
- B) Ürünün fiyatı ve talebi artar.
- C) Ürünün fiyatı artar, talebi değişmez.
- D) Ürünün fiyatı artar, talebi azalır.
- E) Ürünün fiyatı ve talebi azalır.

11. Üretim faktörlerinin (emek, sermaye, toprak) üretim sürecine katılmasıyla elde edilen çıktıya ne ad verilir?

- A) İmalat
- B) Üretim
- C) Girdi
- D) Üretim fonksiyonu
- E) Ürün

12. Bir firma fiyatı 5 TL olan bir maldan 20 birim sattığında elde ettiği toplam gelir 100 TL, satış miktarını 30 birime çıkarttığında ise 150 TL gelir elde ederse, firmanın marjinal geliri kaç TL olur?

- A) 4
- B) 5
- C) 10
- D) 15
- E) 30

13. Tam rekabet piyasasında faaliyet gösteren bir firmanın kısa dönemde üretimde koşullar aşağıdakilerden hangisidir?

- A) Ortalama gelir \geq Ortalama değişken maliyet
- B) Ortalama gelir = Toplam sabit maliyet
- C) Ortalama gelir < Ortalama maliyet
- D) Ortalama gelir = Ortalama maliyet
- E) Ortalama gelir < Ortalama değişken maliyet

2010 BS 2100-A

14. Aşağıdakilerden hangisi tekelcinin fiyat farklılaştırmasına gidilebilmesi için gerekli olan temel koşullardan biridir?

- A) Toplam maliyetlerin düşük olması
- B) Marjinal gelirin belirlenebilir olması
- C) Satıcının farklı talep esnekliklerine sahip tüketicileri belirleyebilir olması
- D) Alıcıların piyasa hakkında tam bilgiye sahip olması
- E) Piyasada çok sayıda satıcı, az sayıda alıcı olması

15. Ek üretim faktörleri kullanılması sonucu firmanın toplam gelirinde ortaya çıkan artışa ne ad verilir?

- A) Marjinal maliyet
- B) Marjinal ürün değeri
- C) Marjinal ürün geliri
- D) Marjinal faktör verimliliği
- E) Marjinal gelir

16. Faktör fiyatı değiştiğinde, talep edilen faktör miktarının değişme oranını aşağıdakilerden hangisi gösterir?

- A) Marjinal ürün esnekliği
- B) Türev talep esnekliği
- C) Dirsekli talep esnekliği
- D) Geriye dönük talep esnekliği
- E) Faktör talep esnekliği

17. Aşağıdakilerden hangisi bedavacılık sorununun artmasına neden olur?

- A) Gönüllü işbirliği içerisinde üretim maliyetine katılımın artması
- B) Kamusal maldan yararlananların sayısının artması
- C) Kamusal malın faydasının bölünebilmesi
- D) Kamusal maldan sınırlı bir grubun yararlanabilmesi
- E) Kamusal malın maliyetinin hesaplanamaması

18. Aşağıdakilerden hangisi Antalya'da turistik bir otelin kanalizasyonunu denize akıtması nedeniyle denize giren kişilerin zarar görmesi şeklinde ortaya çıkacak bir dışsallık türüne örnek olarak verilebilir?

- A) Marjinal dışsal maliyet
- B) Pozitif dışsallık
- C) Etkin olmayan dışsallık
- D) Negatif dışsallık
- E) Yararlı dışsallık

19. Aşağıdakilerden hangisi ekonominin mal ve hizmet üretme kapasitesindeki artışı ifade etmektedir?

- A) Enflasyon
- B) Toplam üretim
- C) Resesyon
- D) Ekonomik büyüme
- E) Konjonktür

20. Bir başka mal veya hizmetin üretilmesinde kullanılan mal ve hizmetlere ne ad verilir?

- A) Tüketim malı
- B) Ara malı
- C) Sermaye malı
- D) Nihai mal
- E) Tamamlanmış mal

21. Bir ülkede milli güvenlik hizmetleri para ile alınıp satılmadığına göre, bir subayın bir yıl içerisinde ürettiği milli güvenlik hizmetinin GSMH'ya katkısı nasıl hesaplanabilir?

- A) Subayın devlete sağladığı çıkarın parasal değeri ile
- B) Tahsil edilen milli güvenlik vergileri ile
- C) Mevcut askeri amaçlı silah stokunun değeri ile
- D) Ülkenin ithal ettiği askeri malzemenin değeri ile
- E) Bu subayın devlete maliyeti ile

2010 BS 2100-A

22. Marjinal tüketim eğilimi (MPC) biliniyorsa, bundan yararlanarak marjinal tasarruf eğilimi (MPS) aşağıdakilerden hangisiyle hesaplanır, bilir?

- A) $MPS = 1 - MPC$
 B) $MPS = 1 + MPC$
 C) $MPS = \frac{1}{MPC}$
 D) $MPS = 1 - \frac{1}{MPC}$
 E) $MPS = 1 + \frac{1}{MPC}$

23. Aşağıdakilerden hangisi "her arz kendi talebini yaratır" görüşünü öne sürmektedir?

- A) Pigou etkisi
 B) Gibson paradoksu
 C) Fisher etkisi
 D) Marshall kanunu
 E) Say kanunu

24. Artan tasarrufların tüketim harcamalarını ve dolayısıyla geliri azaltmasına ne ad verilir?

- A) Fisher etkisi
 B) Tüketim paradoksu
 C) Tasarruf paradoksu
 D) Pigou etkisi
 E) Gibson paradoksu

25. Bir ekonomide Marjinal tasarruf eğilimi (MPS) 0,40, Marjinal ithalat eğilimi (MPI) 0,10 olduğu durumda vergi çarpanının değeri kaçtır?

- A) -1
 B) -1,5
 C) 0
 D) 1
 E) 1,5

26. Aşağıdaki para stoku tanımlarından hangisinde paranın değişim aracı olma fonksiyonu ön plana çıkarılır?

- A) M3A
 B) M3
 C) M2Y
 D) M2
 E) M1

27. Aşağıdakilerden hangisi modern bir merkez bankasının üstlendiği fonksiyonlardan biri değildir?

- A) Para piyasalarında istikrarı sağlamak
 B) Bankalara bankacılık hizmeti sunmak
 C) Üretim kalitesinde iyileştirme sağlamak
 D) Ülkede likiditenin son kaynağı olmak
 E) Devlete bankacılık hizmetleri sunmak

28. Aşağıdakilerden hangisi toplam arz eğrisinin sağa doğru kaymasına neden olur?

- A) Sermaye stokunun azalması
 B) Maliyetlerde artışa neden olan şok bir olayın yaşanması
 C) Ekonomik büyümenin sağlanması
 D) Fiyatlar genel düzeyinin yükselmesi
 E) Doğal bir felaketin meydana gelmesi

29. Aşağıdakilerden hangisi dış ticarete getirilen kısıtlamalar arasında yer almaz?

- A) Tarifeler
 B) Kotalar
 C) Tarife dışı engeller
 D) İhracat ambargosu
 E) Devalüasyon

30. Ekonomik büyüme oranının hesaplanmasında aşağıdaki GSMH kavramlarından hangisi kullanılır?

- A) Potansiyel GSMH
 B) Konjonktürel GSMH
 C) Reel GSMH
 D) GSMH açığı
 E) Nominal GSMH