

# İKTİSADA GİRİŞ

# A

2009 BS 3204-A

1. Aşağıdakilerden hangisi dayanıksız mal veya hizmet grubu içerisinde yer almaz?

- A) Benzin
- B) Mum
- C) Ekmek
- D) Buzdolabı
- E) Şeker

2. Aşağıdakilerden hangisi firmaların ekonomide oynadıkları başlıca rollerden biridir?

- A) Geleneklere uygun hareket etme
- B) Adil gelir dağılımını sağlama
- C) Ortak finansal karar alma
- D) Mülkiyet haklarını düzenleme
- E) Üretikleri malları satma

3. Aşağıdakilerden hangisi para ile sermaye kavramları arasındaki farkı ifade eder?

- A) Para fiziki bir kaynak, sermaye finansal bir kaynak niteliğindedir.
- B) Para dolaysız bir üretim faktörü, sermaye dolaylı bir üretim faktörü niteliğindedir.
- C) Para beşeri bir kaynak, sermaye finansal bir kaynak niteliğindedir.
- D) Para bir üretim faktörü, sermaye bir finansal araç niteliğindedir.
- E) Para bir finansal araç, sermaye bir üretim faktörü niteliğindedir.

4. Çalışanların eğitim ve yetiştirilme sonucu elde ettikleri bilgi birikimi ve yeteneklerine ne ad verilir?

- A) Beşeri sermaye
- B) Fiziki sermaye
- C) Finansal sermaye
- D) Maksimum sermaye
- E) Minimum sermaye

5. Gelirdeki bir artış karşısında talebi azalan mallara ne ad verilir?

- A) Tamamlayıcı mal
- B) Lüks mal
- C) Normal mal
- D) Rasyonel mal
- E) Düşük mal

6. Diğer değişkenler sabitken, değişik fiyat düzeylerinde üreticilerin satmaya hazır oldukları mal ve hizmet miktarını gösteren eğri aşağıdakilerden hangisidir?

- A) Arz eğrisi
- B) Maliyet eğrisi
- C) Üretim eğrisi
- D) Satış eğrisi
- E) Endüstri eğrisi

7. Ürettiği mala ilişkin talebin fiyat esnekliği değeri bire eşit olan bir firma, söz konusu malın fiyatını arttırdığında toplam hasılatı bundan nasıl etkilenir?

- A) Önce azalır, sonra artar.
- B) Artar.
- C) Değişmez.
- D) Önce artar, sonra azalır.
- E) Azalır.

8. Çok az ikame olanağı bulunan ürünlere ait talebin fiyat esnekliğine ne ad verilir?

- A) Sıfır esnek talep
- B) Esnek talep
- C) Sonsuz esnek talep
- D) Birim esnek talep
- E) İnelastik talep



2009 BS 3204-A

9. Aşağıdakilerden hangisi devletin uyguladığı fiyat kontrollerinden biri değildir?

- A) Asgari ücret uygulaması
- B) İthalat kotaları uygulaması
- C) Kira kontrolleri uygulaması
- D) Tarımsal destekleme fiyatı uygulaması
- E) Taban fiyat uygulaması

10. Üretici rantıyla ilgili olarak aşağıdaki ifadelerden hangisi yanlıştır?

- A) Piyasaya katılım sonucu üreticilerin sağladığı faydayı ölçmeye yarar.
- B) Üreticinin malını satmaya hazır olduğu fiyat ile gerçekte sattığı fiyat arasındaki farktır.
- C) Arz eğrisi ile yakından ilişkilidir.
- D) Arz eğrisi ve denge fiyatının altındaki alan üretici rantıdır.
- E) Talep eğrisi ile yakından ilişkilidir.

11. Değişken girdi miktarının artırılmasına bağlı olarak elde edilen çıktıya ne ad verilir?

- A) Ortalama fiziki ürün
- B) Marjinal fiziki ürün
- C) Toplam fiziki ürün
- D) Toplam hasılat
- E) Marjinal ürün değeri

12. Ürün miktarındaki artış oranının girdilerdeki artış oranından düşük olması durumuna ne ad verilir?

- A) Ölçeğin verimi
- B) Kısa dönem
- C) Marjinal ürün değeri
- D) Ölçeğe göre sabit verim
- E) Ölçeğe göre azalan verim

13. Aşağıdakilerden hangisi tam rekabet piyasasının özel bir piyasa yapısına neden olan varsayımlarından biri değildir?

- A) Firmaların kolaylıkla piyasalara girip çıkması
- B) Piyasada çok sayıda alıcı ve satıcı olması
- C) Her firmanın homojen bir ürün üretip satması
- D) Piyasada yakın ikamesi olmayan malların satılması
- E) Alıcı ve satıcıların tam bilgiye sahip olması

14. Toplam gelirin satış miktarına oranına ne ad verilir?

- A) Ortalama gelir
- B) Marjinal gelir
- C) Marjinal maliyet
- D) Ortalama toplam maliyet
- E) Kapanma noktası

15. Bir ilçede tekel konumunda olan bir kuaförün öğrencilere diğer müşterilere oranla daha ucuza saç kesimi yapması, hangi tür fiyat farklılaştırmasıdır?

- A) Tam fiyat farklılaştırması
- B) Alıcılar arasında farklılaştırma
- C) Kısmi fiyat farklılaştırması
- D) Birimler arasında farklılaştırma
- E) Miktarlar arası farklılaştırma

16. Tekelci bir firmanın kâr maksimizasyonu sağladığı üretim düzeyinde aşağıdakilerden hangisi geçerli olur?

- A) Marjinal maliyet = Marjinal gelir
- B) Marjinal gelir = Ortalama toplam maliyet
- C) Marjinal maliyet = Ortalama toplam maliyet
- D) Ortalama gelir = Ortalama toplam maliyet
- E) Marjinal maliyet = Ortalama gelir

2009 BS 3204-A

17. Ekonomik birimlerin mallara olan doğrudan taleplerinin, bu malların üretiminde kullanılacak kaynaklara dayalı olarak yarattığı talep aşağıdakilerden hangisidir?

- A) Türev talep
- B) Faktör talebi
- C) Faktör piyasa talebi
- D) Faktör talep esnekliği
- E) Ücret oranı

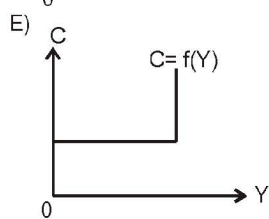
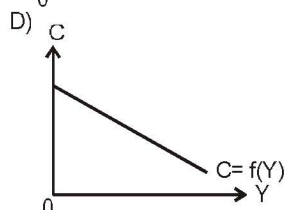
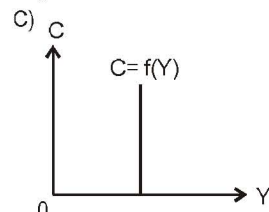
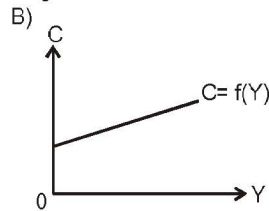
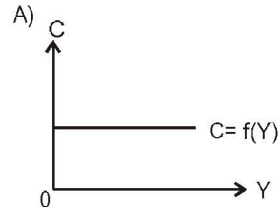
18. Bir firma aşağıdakilerden hangisinin oluşması durumunda faktör alımını durdurur?

- A) Marjinal ürün geliri = Marjinal faktör maliyeti - Marjinal gelir
- B) Marjinal ürün geliri = Marjinal faktör maliyeti
- C) Marjinal ürün geliri > Marjinal faktör maliyeti
- D) Marjinal gelir > Marjinal fiziki ürün
- E) Marjinal ürün geliri < Marjinal faktör maliyeti

19. Kamusal mallarda etkin üretim miktarının belirlenebilmesi için gerekli koşul aşağıdakilerden hangisidir?

- A) Marjinal sosyal maliyet = Fiyat
- B) Marjinal sosyal fayda = Marjinal maliyet
- C) Toplam fayda = Toplam gelir
- D) Ortalama sosyal maliyet = Fayda
- E) Marjinal fayda = Marjinal gelir

20. Gelirle tüketim harcamaları arasındaki doğru yönlü ilişki göz önüne alındığında, tüketim fonksiyonunu göstermek amacıyla aşağıdakilerden hangisi kullanılır?



21. Özel tüketim veya üretim faaliyetlerinin tüketici veya üretici tarafından ödenmeyen maliyetlerine ne ad verilir?

- A) Sosyal dışsallık
- B) Türev dışsallık
- C) Marjinal dışsallık
- D) Negatif dışsallık
- E) Pozitif dışsallık

2009 BS 3204-A

22 - 25. sorular aşağıdaki şekle göre cevaplandırılacaktır.

Gelir Unsurları	Tutar (TrilyonTL)
GSMH	1500
Transfer Ödemeleri	50
Dolaylı Vergiler	150
Dolaysız Vergiler	200
Dağıtılmayan Kârlar	20
Amortismanlar	10
Sosyal Güvenlik Prim Ödemeleri	10

Yukarıdaki tabloda bir ekonomiye ait bilgiler verilmektedir

22. Yukarıdaki bilgilere göre, ekonomi için Safi Milli Hasıla (SMH) değeri kaç milyon YTL'dir?

- A) 1 060
- B) 1 200
- C) 1 350
- D) 1 450
- E) 1 490

23. Yukarıdaki bilgilere göre, ekonomi için milli gelir değeri kaç milyon YTL'dir?

- A) 910
- B) 1 050
- C) 1 200
- D) 1 340
- E) 1 450

24. Yukarıdaki bilgilere göre, ekonomi için kişisel gelir değeri kaç milyon YTL'dir?

- A) 990
- B) 1 170
- C) 1 360
- D) 1 410
- E) 1 470

25. Yukarıdaki bilgilere göre, ekonomi için kullanılabilir gelir düzeyi kaç milyon YTL'dir?

- A) 670
- B) 790
- C) 970
- D) 1 160
- E) 1 210

26. Üretim hacminde zaman zaman ortaya çıkan daralmaların yarattığı işsizlik türüne ne ad verilir?

- A) Yapısal işsizlik
- B) Arızı işsizlik
- C) Mevsimlik işsizlik
- D) Konjonktürel işsizlik
- E) Friksiyonel işsizlik

27. Konjonktür dalgalanmalarının uzun dönemdeki seyri göz önüne alındığında, her daralma döneminden sonra ekonominin canlanmaya geçişi aşağıdakilerden hangisi ile adlandırılır?

- A)  $\cap$  dönüşü
- B)  $\supset$  dönüşü
- C)  $\cup$  dönüşü
- D)  $\subset$  dönüşü
- E) W seyri

28. Bir ekonomide fiilen gerçekleşen harcamaların her zaman gelire eşit olması için aşağıdaki koşullardan hangisi gereklidir?

- A) Fiyatlar genel düzeyinin sabit olması
- B) Ekonominin sürekli tam istihdamda olması
- C) Stok değişmelerinin envanter yatırımı olması
- D) Ücretlerin tam esnek olması
- E) Ekonominin dışa kapalı olması

29. Aşağıdakilerden hangisi gelir-harcama akımına yapılan bir enjeksiyon niteliği taşır?

- A) İthalat
- B) İhracat
- C) Para arzı
- D) Tasarruflar
- E) Vergiler

2009 BS 3204-A

30. Vergilerin söz konusu olmadığı bir ekonomik modelde, marjinal tasarruf eğilimi 0,05 ve marjinal ithal eğilimi de 0,05 ise, kamu harcamalarında meydana gelecek 1 milyar liralık azalma denge gelir düzeyinde kaç milyar liralık azalmaya neden olur?

- A) 12,5
- B) 10
- C) 5
- D) 2
- E) 1

31. Zorunlu rezerv oranının 0,25 olması halinde, basit kaydi para çarpanının değeri aşağıdakilerden hangisidir ?

- A) 0,25
- B) 0,50
- C) 1,5
- D) 2
- E) 4

32. Paranın dolaylı yoldan ekonomiyi etkileyeceğini savunanlara göre, para miktarındaki değişiklikler aşağıdakilerden hangisi aracılığı ile ekonomiyi etkilemektedir ?

- A) Marjinal tüketim eğilimi
- B) Dolaşım hızı
- C) Harcama çarpanı
- D) Faiz oranı
- E) Ortalama tasarruf eğilimi

33. Paranın işlem amacıyla talep edilmesinin nedeni aşağıdakilerden hangisidir ?

- A) Gelir elde etme ve harcama yapma dönemlerinin eşleşmemesi
- B) Marjinal tüketim eğiliminin 1'den küçük olması
- C) Faiz oranının sabit olmaması
- D) Tasarruf yapma güdüsünün olması
- E) Harcamaların genellikle gelirden büyük olması

34.

	Reel GSMH Artış Oranı	Kişi başına Reel GSMH Artış Oranı
Gelişmiş Ülkeler	2,9	2,3
Gelişmekte Olan Ülkeler	6,1	3,9

Yukarıdaki tabloya göre, gelişmiş ve gelişmekte olan ülkeler arasında kişi başına reel GSMH artış oranları arasındaki farkın reel GSMH artış oranları arasındaki farka göre daha büyük olmasının nedeni aşağıdakilerden hangisidir ?

- A) Gelişmekte olan ülkelerde verimliliğin düşük olması
- B) Gelişmekte olan ülkelerde üretim hacminin sınırlı olması
- C) Gelişmekte olan ülkelerde nüfusun daha hızlı artması
- D) Gelişmekte olan ülkelerde teknolojik gelişmenin sınırlı olması
- E) Gelişmekte olan ülkelerde eğitim düzeyinin düşük olması

- 35. I. Fiyatlardaki değişme
- II. Kamu harcamalarındaki değişme
- III. Para arzındaki değişme

Yukarıdaki değişikliklerden hangileri toplam talep eğrisi üzerinde hareket edilmesini gerektirir ?

- A) Yalnız I
- B) I ve II
- C) I ve III
- D) II ve III
- E) , II ve III

36. Türkiye 1 birim kaynakla 2 adet saat veya 1000 kg fındık üretirken, İsviçre aynı kaynakla 4 adet saat veya 500 kg fındık üretiyorsa, Türkiye'nin fındık, İsviçre'nin saat üretiminde uzmanlaşması durumunda dünya fındık ve saat üretimi bundan nasıl etkilenir ?

- A) Saat üretimi 2 adet azalır, fındık üretimi 500 kg artar.
- B) Saat üretimi 2 adet artar, fındık üretimi 500 kg azalır.
- C) Saat üretimi 2 adet, fındık üretimi 500 kg artar.
- D) Saat ve fındık üretimi değişmez.
- E) Saat üretimi 2 adet, fındık üretimi 500 kg azalır.